

PSA - CLASS - IX - FORMAT

Test Context Domain/ Item Type		Target No. Per Test Form		
		No. of Items	No. of Passages	Total No. of Items
Qualitative				
*	Stand Alone MCQ	6		6
*	Passage Based MCQ	6	2	12
SUB TOTAL				18
Quantitative				
*	Stand Alone MCQ	10		10
*	Passage Based MCQ	4	2	8
SUB TOTAL				18
Language Conventions				
*	Grammar & Usage MCQ	8		8
*	Vocabulary in Context MCQ	8		8
*	Passage Completion MCQ	8		8
SUB TOTAL				24
TOTAL				60

QUALITATIVE

Stand Alone MCQ

1). Manav is facing west. He turns 45° in the anti-clock-wise direction and then 180° in the clockwise direction. Which direction is he facing now?

- a) North
- b) North-East
- c) East
- d) South – East

मानव पश्चिम की ओर मुख करके खड़ा है। वह घड़ी की सुई की विपरीत दिशा में 45° तथा घड़ी की सुई की दिशा में 180° घूमता है। अब उसका मुख किस दिशा में है?

- a) उत्तर
- b) उत्तर-पूर्व
- c) पूर्व
- d) दक्षिण-पूर्व

2) Pratibha is standing facing west. If she turns left and walks 50 mtr. distance and again she turns left. Which direction is she facing now?

- a) North
- b) East
- c) South
- d) West

प्रतिभा पश्चिम की ओर मुख करके खड़ी है। वह पहले बाईं ओर मुड़ती है तथा 50 मीटर चलने के पश्चात पुनः बाईं ओर मुड़ती है अब उसका मुख किस दिशा में है?

- a) उत्तर
- b) पूर्व
- c) दक्षिण
- d) पश्चिम

3) Mahima lives in Chennai in a sea-facing house. While going to her friend's house, she turns to her right. After moving to 70 mtr. in that direction, she again turns to her right. Which direction is she facing now?

- a) North
- b) West
- c) East
- d) South

महिमा चेन्नई में रहती है। उसका घर समुद्र की ओर है। अपने मित्र के घर जाते समय पहले वह दाईं ओर मुड़ी। 70 मीटर की दूरी तय करने के पश्चात वह पुनः अपने दाईं ओर मुड़ी। अब उसका मुख किस दिशा में है?

- a) उत्तर
- b) पश्चिम
- c) पूर्व
- d) दक्षिण

- 4) Two N.C.C Cadet groups 'A' and 'B' are facing east and west directions respectively. They were given following commands ----left turn, about turn, right turn and left turn. At last, in which directions group 'A' and 'B' are facing now?
- East, West
 - West, East
 - North, South
 - South, North

N.C.C कैडेट्स की दो टुकड़ियाँ 'A' और 'B' जो क्रमशः पूर्व और पश्चिम की ओर उन्मुख हैं, को निम्न आदेश दिए गए :- बायें मुड़, पीछे मुड़, दायें मुड़, बायें मुड़। तदनुसार अन्त में 'A' तथा 'B' निम्न दिशाओं की ओर उन्मुख हो जायेंगे :-

- पूर्व, पश्चिम
 - पश्चिम, पूर्व
 - उत्तर, दक्षिण
 - दक्षिण, उत्तर
- 5) Ram moves 4 metres. in south direction then he moves 3 metres. in east direction. How far is he from the starting point?

- 5 metres
- 1 metre
- 3 metres
- 4 metres

राम दक्षिण दिशा की ओर 4 मीटर चला तत्पश्चात वह पूर्व की ओर 3 मीटर चला। वह मूल स्थान से कितनी दूर है?

- 5 मीटर
- 1 मीटर
- 3 मीटर
- 4 मीटर

- 6) Anuj and Manuj are facing North and South directions respectively. Both of them move at 180° . In which respective direction they are facing now?

- West, east
- East, west
- South, north
- North, south

अनुज और मनुज क्रमशः उत्तर तथा दक्षिण की ओर मुख करके खड़े हैं। दोनों अपनी स्थिति से 180° घूमते हैं। उनकी स्थिति क्रमशः होगी :-

- पश्चिम, पूर्व
- पूर्व, पश्चिम
- दक्षिण, उत्तर
- उत्तर, दक्षिण

- 7) Find out the missing letter and mark the correct option as answer .

लुप्त अक्षर का पता लगाइए और उपयुक्त विकल्प को उत्तर के रूप में अंकित कीजिए :-
Z X U _ L F

- R

- b) Q
- c) P
- d) O

8) A C E _ I K

- a) F
- b) H
- c) J
- d) G

9) Mark the correct option for missing places to complete the series.

लुप्त स्थानों के लिए सही विकल्प को चुनिए जो श्रृंखला को पूरा करे :-

a_bb_abba__baa_b

- a) a a a b b
- b) a b b a a
- c) a a b b a
- d) a a a b a

10) Which pair will come next?

आगे कौन सा युग्म आयेगा?

ZX AC VT EG ___?

- a) IK
- b) NL
- c) HI
- d) RP

11)

Note:- Read the passage and the conclusion carefully and mark the correct option.

It has been observed that educated parents expense / invest more on education of their children because by their experience they know the value or importance of education.

Conclusion – I : Illiterate parents do not understand the value or importance of education.

Conclusion – II: Educated parents understand the value or importance of education

- a) Only conclusion I is correct.
- b) Only conclusion II is correct**
- c) Both conclusion I & II are correct
- d) Neither conclusion I nor II is correct

यह देखा गया है कि शिक्षित माता-पिता अपने बच्चों की शिक्षा पर ज्यादा खर्च करते शिक्षा के महत्व को जानते हैं।

निष्कर्ष 1 :- अशिक्षित माता-पिता शिक्षा के महत्व को नहीं समझते।
निष्कर्ष 2 :- शिक्षित माता-पिता शिक्षा के महत्व को समझते हैं।

- a) केवल निष्कर्ष I सही है
- b) केवल निष्कर्ष II सही है
- c) दोनों निष्कर्ष I और II सही है
- d) न तो I और न II सही है

- 12) In a certain code language ANT is written as BOU. How will ZEBRA be written in that code language?

यदि किसी कूट भाषा में ANT को BOU लिखा जाता है, तो उसी कूट भाषा में ZEBRA को कैसे लिखा जायेगा?

- a) A F C S B
- b) B G D T C
- c) B G T D C
- d) A F B C S

- 13) Md. Hasan says to his friend with pointing towards Md. Rayyan "His mother and my mother are daughter – mother." How are Hasan and Md. Rayyan related?

- a) paternal Uncle – Nephew
- b) Maternal Uncle – Nephew
- c) Father – son
- d) Father-in-law – son-in-law

मोहम्मद हसन ने मोहम्मद रैयान की तरफ इशारा करते हुए अपने मित्र से कहा, 'इसकी माँ और मेरी माँ दोनों माँ-बेटी हैं'। मोहम्मद हसन और मोहम्मद रैयान का आपस में क्या रिश्ता है?

- a) चाचा-भतीजा
- b) मामा-भांजा
- c) पिता-पुत्र
- d) ससुर-दामाद

- 14) Fatima introduces Mr. Zakir to her husband and said that father of his brother is the only son of her grandfather. How is Fatima related to Mr. Zakir?

- a) Mother
- b) Aunt
- c) Sister
- d) Niece

फातिमा ने अपने पति से जाकिर का परिचय कराते हुए कहा, "उसके भाई के पिता मेरे दादाजी के इकलौते पुत्र हैं। फातिमा का जाकिर से क्या रिश्ता है?

- a) माता
- b) चाची
- c) बहन
- d) भतीजी

15) Tanzeela is Tazeem's sister and Mr. Yusuf is father of Tazeem. Shahnawaz is son of Mr. Sabir and Mr. Sabir is brother of Mr. Yusuf. How is Tanzeela related to Shahnawaz?

- a) Daughter
- b) Sister
- c) Cousin
- d) Wife

तंजीला ताजीम की बहन है और युसुफ ताजीम के पिता हैं। शाहनवाज साबिर का पुत्र है। साबिर युसुफ का भाई है तो तंजीला से शाहनवाज का क्या रिश्ता है?

- a) पुत्री
- b) बहन
- c) चचेरी बहन
- d) पत्नी

Note:- In question No. 16 to 17 arrange the following in the increasing order and choose the correct option to match your answer correctly.

निम्नलिखित को आरोही क्रम में (छोटे से बड़ा) में व्यवस्थित करने के लिए सही विकल्प को चुनिए :-

16)

- | | |
|----------------|--------------|
| 1. Weekly | 1. साप्ताहिक |
| 2. Daily | 2. दैनिक |
| 3. Monthly | 3. मासिक |
| 4. Fortnightly | 4. पाक्षिक |
| 5. Yearly | 5. वार्षिक |

- a) 1, 2, 3, 4, 5
- b) 2, 1, 3, 4, 5
- c) 2, 1, 4, 3, 5
- d) 2, 1, 3, 5, 4

17)

- | | |
|-------------------|---------------|
| 1. Meghalaya | 1. मेघालय |
| 2. Madhya Pradesh | 2. मध्यप्रदेश |
| 3. Goa | 3. गोवा |
| 4. Rajasthan | 4. राजस्थान |

- a) 3, 1, 2, 4
- b) 3, 1, 4, 2
- c) 1, 3, 2, 4
- d) 1, 2, 3, 4

18)

- | | |
|-------------------|----------------|
| 1. River Godavari | 1. गोदावरी नदी |
| 2. River Ganga | 2. गंगा नदी |
| 3. River Narmada | 3. नर्मदा नदी |
| 4. River Tapi | 4. तापी नदी |
| a) 2, 3, 4, 1 | |
| b) 2, 3, 1, 4 | |
| c) 4, 3, 2, 1 | |
| d) 4, 3, 1, 2 | |

Note:- (Q19-25) Find Odd One Out (उसे चुनिए जो अन्य तीन विकल्पों से भिन्न है) :

19)

- | | |
|--------------|--------------|
| a) Finance | a) वित्त |
| b) Health | b) स्वास्थ्य |
| c) Mining | c) उत्खनन |
| d) Education | d) शिक्षा |

20)

- | | |
|-----------------|---------------|
| a) River Beas | a) व्यास नदी |
| b) River Sutlej | b) सतलुज नदी |
| c) River Ravi | c) रावी नदी |
| d) River Kaveri | d) कावेरी नदी |

21)

- | | |
|------------|------------|
| a) Hut | a) झोपड़ी |
| b) Flat | b) फ्लैट |
| c) Igloo | c) इग्लू |
| d) Factory | d) कारखाना |

22)

- | | |
|--------------|---------------|
| a) Driver | a) चालक |
| b) Passenger | b) यात्री |
| c) Pilot | c) विमान चालक |
| d) Sailor | d) नाविक |

23)

- | | |
|-------------------|---------------|
| a) Liberty | a) स्वतंत्रता |
| b) Equality | b) समानता |
| c) Fraternity | c) बन्धुत्व |
| d) Discrimination | d) विभेदीकरण |

24)

- | | |
|------------|--------------|
| a) Gallon | a) गैलन |
| b) Quintal | b) क्विंटल |
| c) Ton | c) टन |
| | d) किलोग्राम |

d) Kilogram

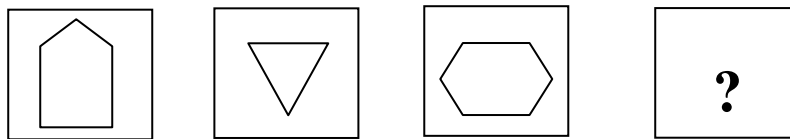
25)

- a) Judge
- b) Accused
- c) Lawyer
- d) Citizen

- a) न्यायाधीश
- b) अपराधी
- c) वकील
- d) नागरिक

26) Which answer figure will complete the pattern in the question figure?
कौन सी उत्तर आकृति प्रश्न आकृति के पैटर्न को पूरा करेगी?

(i)

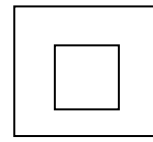
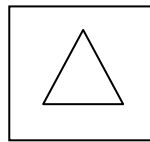
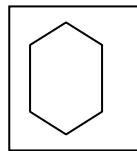
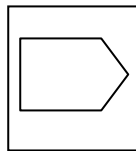


a)

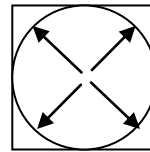
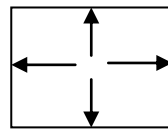
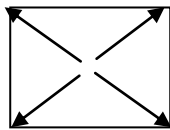
b)

c)

d)



27)

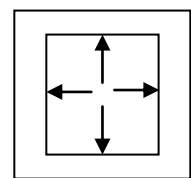
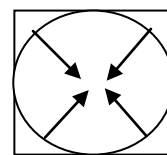
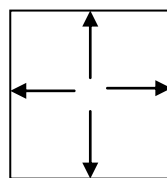
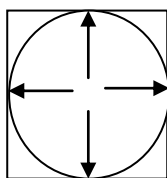


(a)

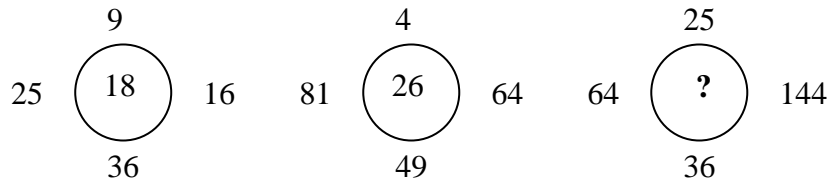
(b)

(c)

(d)



27) Choose the appropriate answer
उचित विकल्प चुनिए :



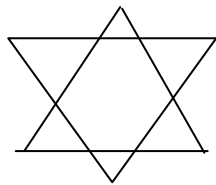
- (a) 19 (b) 23 (c) 24 (d) 31

29)

4	7	3	2
416	749	309	?

- (a) 204 (b) 104 (c) 404 (d) 401

30) How many triangle are there in the given figure:-
दिए गए चित्र में कितने त्रिभुज हैं?



- (a) 5 (b) 6 (c) 8 (d) 10

Note:- (Q31-35) Select the related word from the given alternatives:-
दिए गए विकल्पों में से सम्बन्धित शब्द चुनिए :-

31) Newton : Force :: _____ : Work

- (a) Metre
- (b) Joule
- (c) Kilogram
- (d) Second

न्यूटन : बल :: _____ : कार्य

- a) मीटर
- b) जूल
- c) किलोग्राम
- d) सेकेण्ड

32) Voter : 18 years :: Lok Sabha Member : _____.

- a) 35 years
- b) 18 years
- c) 25 years
- d) 30 year

मतदाता : 18 वर्ष :: लोकसभा सदस्य : _____

- a) 35 वर्ष
- b) 18 वर्ष
- c) 25 वर्ष
- d) 30 वर्ष

33) Perimeter : Metre :: _____ : Square metre

- a) Circumference
- b) Area
- c) Volume
- d) Diagonal

परिमाप : मीटर :: _____ : वर्ग मीटर

- a) परिधि
- b) क्षेत्रफल
- c) आयतन
- d) विकर्ण

34) 9: 81 :: 11: _____.

- a) 101
- b) 111
- c) 121
- d) 110

- 35) LAMB : BMAL :: GOOD : _____.
- a) OGOD
 - b) DOOG
 - c) ODOG
 - d) OOGD

Note:- Select the correct answers from question no 36 to 40 :-

सही विकल्प को चुनिए :-

- 36) The term 'Global Warming' means
- a) Quick melting of polar ice sheets.
 - b) Depletion of Ozone layer.
 - c) High temperature in Torrid Zone.
 - d) General rise in temperature due to CO₂

वैश्विक उष्मीकरण से तात्पर्य है :-

- a) ध्रुवीय बर्फ का पिघलना
- b) ओजोन परत का घटना
- c) उष्ण कटिबंधीय उच्च तापमान
- d) कार्बन डाईऑक्साइड की वजह से उच्च तापमान

- 37) The Gandhian principles have been enumerated in the:-
- a) Fundamental Rights
 - b) Preamble of the Constitution
 - c) Directive Principles
 - d) Fundamental Duties

गांधी जी के सिद्धान्त निम्न में सम्मिलित हैं :-

- a) मौलिक अधिकार
- b) प्रस्तावना
- c) नीति निदेशक सिद्धान्त
- d) मौलिक कर्तव्य

- 38) The 'Microsoft' word is associated with:
- a) Andrew Grove
 - b) Bill Gates
 - c) Ted Turner
 - d) Rupert Murdoch

'माइक्रोसाफ्ट' शब्द किसके साथ संलग्न है :-

- a) एन्ड्रू गुरुव
- b) बिल गेट्स
- c) टेड टर्नर
- d) रूपर्ट मरडोक